



جامعة البصرة
كلية الإدارة والاقتصاد
قسم نظم المعلومات الإدارية
الفصل الدراسي الأول
للعام الدراسي 2023-2024



الزمن : ساعتين

المرحلة : الأولى التاريخ / / 2023

المادة : نظم المعلومات الإدارية

ملاحظة: الإجابة على خمس أسئلة فقط لكل سؤال 10 درجات.

السؤال الأول: عرف خمسة كل مما يأتي 1- الانترنت 2- ضغوط الاعمال 3- التغيرات التكنولوجية 4- نظم المعرفة 5- نظم دعم القرارات الجماعية 6- نظم تشغيل البيانات ؟

السؤال الثاني : يمكن وصف نظم المعلومات من خلال عمل خمسة مكونات هي؟

السؤال الثالث : ضع علامة ✓ أو x أمام كل عبارة من العبارات التالية:

1- يجب ان يعمل محلل النظم مع الافراد الذين يواجهون المشكلة لكي يتعرف على ماذا يحدث، وما هي الاخطاء التي يتم ارتكابها ؟

2- لا بد ان يمارس محلل النظم بنفسه اعراض المشكلة للحصول على فهم عميق للمشكلة من خلال التنفيذ الفعلي للعمل الذي يقوم به المستفيدون؟

3- مصمموا النظام هم غير مسئولون عن جودة الفنية للنظام المعلومات ويجب عليهم التأكد من التوقيت ؟

4- يجب ان يأخذ مصممي النظام في الحسبان تأثير النظام على التنظيم وبالذات الصرع التنظيمي والتغير في تركيز اتخاذ القرار ، وعلى المصمم ان يحدد التغيير الذي نحتاجه ؟

5- قرارات مبرمجة وهي القرارات المرنة نسبيا ذلك من خلال تصميمها ويركز على النظام والبيانات ؟

السؤال الرابع : يمكن ان تساعد حلول التجارة الالكترونية في تنفيذ العديد من الانشطة الحرجة التي تقوم بها المنظمات عددها فقط ؟

السؤال الخامس : اشرح مفهوم نظم المعلومات مع رسم نظام المعلومات داخل سياق المنظمة وبيئة الاعمال ؟

السؤال السادس : ما هي الخطوات التي يجب اتباعها في حل المشاكل طبقا لمدخل النظم ؟

ر / العميد

رئيس القسم

مدرس المادة



جمهورية العراق
وزارة التعليم العالي والبحث العلمي
جامعة البصرة
كلية الإدارة والاقتصاد
قسم نظم المعلومات الادارية



أسئلة الامتحان النهائي للعام الدراسي 2023-2024 -الفصل الاول- الدور (الاول)
المادة : رياضيات... المرحلة : الاولى... التاريخ 8 / 2 / 2023 الزمن : ساعتان

ملاحظة: الاجابة: عن أربعة أسئلة فقط. (لكل سؤال 12.5 درجة)

س1: جد مبدل المصفوفتين ثم جد حاصل ضربيهما:

$$A = \begin{bmatrix} 2 & 0 & 1 \\ -4 & 3 & 5 \end{bmatrix}, \quad B = \begin{bmatrix} 3 & -1 \\ -2 & 2 \\ 4 & -3 \end{bmatrix}$$

س2: اختر الاجابة الصحيحة :-

1. اذا كانت $A = \begin{pmatrix} 3 & 5 \\ 1 & 2 \end{pmatrix}$ وكانت كانت المصفوفة $B = 2A - A$ فان B هي

a. $B = \begin{pmatrix} 3 & 5 \\ 1 & 2 \end{pmatrix}$ b. $B = \begin{pmatrix} 6 & 10 \\ 2 & 4 \end{pmatrix}$ c. ليس مما ذكر

2. اذا كانت $\begin{pmatrix} 3 & 5 \\ 1 & 2 \end{pmatrix} = \begin{pmatrix} 2 + X & 5 \\ 1 & X - Y \end{pmatrix}$ فان قيمة X, Y هي

a. 2 b. 1 c. ليس مما ذكر

3. اذا كانت $B^{-1} = \begin{pmatrix} 6 & 5 \\ 1 & 1 \end{pmatrix}$ فان المصفوفة $(B^{-1})^{-1}$ هي

a. $\begin{pmatrix} 6 & 5 \\ 1 & 1 \end{pmatrix}$ b. $\begin{pmatrix} 6 & -1 \\ -5 & 1 \end{pmatrix}$ c. ليس مما سبق

4. اذا كان $\begin{pmatrix} 2 \\ 4 \end{pmatrix} = \begin{pmatrix} 1 & X \\ 3 & 2 \end{pmatrix} \begin{pmatrix} 2 \\ Y \end{pmatrix}$ فان قيمة X هي

a. $X = -1$ b. $X = 0$ c. ليس مما ذكر

5. اذا كانت $f(x) = x^2 - 3x^3 + 4$ فان $f'(x)$

a. $2x - 6$ b. $2x + 6x^2$ c. ليس مما ذكر

6. محدد المصفوفة $a = \begin{pmatrix} 5 & 25 \\ 1 & 5 \end{pmatrix}$ هو

a. 25 b. 5 c. ليس مما ذكر

6 - 5 = 1
+ = -1

6 - 5

س3: جد مجموعة حل النظام الخطي التالي:

$$3x + y = 4$$

$$2x + 4y = -1$$

س4: جد $f'(x)$ للدوال التالية:

1. $f(x) = (9 + 2x^2)^{\frac{5}{3}}$

2. $f(x) = \frac{1+\sqrt{x}}{1-\sqrt{x}}$

3. $f(x) = \left(\frac{1+3x}{3x}\right)(3-x)$

س5: جد قيمة كل من (a, b, c, d) اذا كان

$$2 \begin{bmatrix} a & -b \\ 3c & -2d \end{bmatrix} = \begin{bmatrix} 3a & 1 \\ c & 3+2d \end{bmatrix} - 3 \begin{bmatrix} -1 & a-b \\ a+b & 2c \end{bmatrix}$$



رئيس القسم

أ.م.د. وليد مية رودين

مع تمنياتنا لكم بالتوفيق والنجاح



مدرسي المادة

أ.م.د. وليد مية رودين م.م. تبارك قاسم ابراهيم

Handwritten calculations at the bottom of the page, including a fraction $\frac{15}{45}$ and a multiplication $\frac{4}{18} \times$.

ملاحظة: الإجابة عن خمسة أسئلة فقط :

- س1 / اختر الأجوبة الصحيحة من بين الأقواس :
- 1- مشاركة المواطن في النشاط السياسي عن طريق الانتخابات والترشيح يسمى :
(حق سياسي / حق اجتماعي / حق وطني) .
 - 2- حقوق مستمدة من تكريم الله له وتفضيله على سائر المخلوقات والتي تعني :
(حقوق طبيعية / حقوق لصيقة / حقوق الانسان) .
 - 3- ظهرت الفلسفة الرواقية في الحضارة :
(الأخرقية / الإسلامية / اليونانية) .
 - 4- هي مجموعة من الحقوق الطبيعية التي يمتلكها الانسان واللصيقة بطبيعتها عرفها :
(القانون الطبيعي / محمد مجذوب / على الوردي)
 - 5- حق يخول كل فرد بأختيار من يمثله سياسياً ضمن السلطة التشريعية هي :
(حق الانتخاب / حق الحياة / حق الجنسية) .

س2 / أجب بعلامة (صح) أو (خطأ) ثم صحح الخطأ أن وجد :

- 1- كفل الاسلام الحقوق الضامنة لحفظ الانسان أهمها حرية الحياة .
- 2- حقوق الانسان غير شامله وتقبل الالغاء والتعديل .
- 3- تتألف شريعة حمورابي من (282) مادة .
- 4- في المجتمع الروماني انعدمت المساواة بين طبقة الاشراف والعامه امام القانون .
- 5- دعا اخناتون إلى التوحيد والسلام والتسامح والرحمة وتحقيق العلم للجميع .

س3 / تشمل الحقوق والحريات الشخصية أنواعاً عدة ترتبط ارتباطاً وثيقاً بحياة الإنسان وديمومتها عدد هذه الحقوق ثم اشرح اثنان منها .

س4 / برزت عدة حقوق سياسية منحها الدول لمواطنيها ويكفلها الدستور أشرحها ثم بين ماهي خصائص هذه الحقوق السياسية .

س5 / هنالك العديد من الحضارات التي اعطت لحقوق الانسان مفاهيم عديدة ومن أبرزها الحضارتين اليونانية والرومانية من جهة والحضارة المصرية القديمة وحضارة العراق القديم من جهة أخرى اعمل مقارنة فيما بينهم مع الشرح .

س6 / من خلال دراستك للحقوق برزت العديد من المميزات والخصائص التي تخص حقوق الانسان التي أقرها الدين الإسلامي بينها مع الشرح .

مع تميّاتنا لكم بالبحاح

العميد

أ.د. عبد الحسين توفيق شبلي

رئيس القسم

أ.م.د. وليد مية رودين

مدرس المادة

م.م. مروة محسن طالب



جمهورية العراق
وزارة التعليم العالي والبحث العلمي
جامعة البصرة
كلية الإدارة والاقتصاد
قسم نظم المعلومات الإدارية



أسئلة الامتحان النهائي للعام الدراسي 2023-2024 - الفصل الأول- الدور الأول
المادة : .ادارة الاعمال... المرحلة : الأولى التاريخ : 2024 / 9 / 24 الزمن : ساعتان

ملاحظة : الاجابة على اربعة أسئلة فقط (لكل سؤال 12.5 درجة) .

س1 / (املا الفراغات التالية بما يناسبها) ، (اجب عن خمسة نقاط فقط)

- 1/ إن تتجسد في التأثير في الأفراد وتحفيزهم لإنجاز عمل يؤدي إلى تحقيق هدف مشترك وعام للمنظمة.
- 2/ هو اتجاه من الاتجاهات المدرسة الكلاسيكية حيث يعتبر ماكس فيبر هو الرائد الأول والرئيس لهذا الاتجاه.
- 3/ هم المدراء المسؤولون عن انتاج السلع و الخدمات الأساسية بشكل مباشر في المنظمات ومن امثلة هؤلاء المدراء: الرئيس، مدير التوزيع.
- 4/ يقترح ان كل منظمة يمكن اعتبارها نظاما متفردا في خصائصه وبيئته ولذلك لا يمكن تعميم طرق شامله للنجاح وإنما لكل موقف هناك سلوك اداري يلائمه.
- 5/ ان هؤلاء المدراء يعيرون أهمية كبيرة جدا للبيئة الخارجية وبيحثون على الفرص التي تؤدي إلى تطوير المنظمة.
- 6/ ان الافتراض الأساسي لهذه المدرسة يستند الى كون الرياضيات و الأساليب الكمية يمكن ان تستخدم في تحسين نوعية القرارات و حل المشكلات في منظمات الاعمال.

س2/ ماهي مهارات المدير؟ عددها و اشرح المهارة الواجب توفرها في الإدارة العليا .

س3 / اجب عن كل مما يأتي:

- 1- بين بالرسم مخطط مفهوم النظام.
- 2- بين بالرسم عناصر البيئة الداخلية والخاصة .

س4/ ما هي المبادئ الإدارية الأربعة عشر لفايول. اشرح 5 منها فقط.

س5/ تكلم عن البيئة الخارجية العامة ، موضحا عناصرها باختصار.

مع تمنياتنا لكم بالنجاح

رئيس القسم

أ.م. د وليد مية رودين

العميد

أ.د عبد الحسين توفيق شبلي

مدرسا المادة

د. عبد الرحمن الرحماني

م.م الحسن علي العطار



جمهورية العراق
وزارة التعليم العالي والبحث العلمي جامعة
الْبصرة
كلية الإدارة والاقتصاد
قسم نظم المعلومات الادارية الدراسات
الصباحية والمسائية



أسئلة الامتحان النهائي للعام الدراسي 2023-2024 - الفصل الاول الدور (الاول)
المادة: التاريخ / 2024 الزمن : ساعتان
د. ك. ب. ح

ملاحظة: الإجابة على خمس اسئلة فقط ولكل سؤال 10 درجات

س1/ عرف كل مما يأتي:

- 1- الحاسب الشخصي
- 2- البيانات
- 3- الابعاز Sort
- 4- الايقونات
- 5- الملف

س2/ اجب بعبارة صح او خطأ مع تصحيح الخطأ ان وجد.

- 1- المعلومات هي مجموعة من الاوامر والتعليمات التي تخبر الحاسوب كيف سيعالج البيانات.
- 2- الشاشة من المكونات الاساسية للحاسوب وهي تعتبر من اهم وحدات الادخال.
- 3- في نظام التشغيل الويندوز يتم فتح قائمة ابدأ الضغط على الزر الموجود بالركن الاسفل اليسار من الشاشة.
- 4- يستخدم الامر view في ترتيب الايقونات على سطح المكتب حسب الاسم او الحجم.
- 5- يوفر نظام التشغيل الويندوز عدة لغات للمستخدمين.

س3/ يحتوي نظام التشغيل الويندوز عدد من المميزات والخصائص عددها مع الشرح.

س4/ اختر الاجابة الصحيحة

- 1- في نظام التشغيل الويندوز يوجد شريط _____ في اعلى النافذة ويكتب به اسم الايقونة (الحالة ، العنوان ، الادوات ، التمرير)
- 2- اطلقت مايكروسوفت الاصدار ويندوز _____ سنة 1987 (ويندوز X.3 ، ويندوز 2.0 ، NT ، XP)
- 3- _____ هي الايقونات التي تمثل نسخة من الاصلية ومنها يمكن تشغيل البرنامج الاصيلي (البرمجية ، القياسية ، الوثائق ، المجلدات)
- 4- في وحدات الخزن الخاصة بالحاسوب فان 1GB تساوي 1024 _____ (KB , MB , TB , Byte).
- 5- نعبر برامجيات _____ مشابهة لبرامج المشاركة بدون رسوم وتوزع مجاناً (التجارية ، العامة ، بدون مقابل ، النظام)

س5/ توجد هناك عدة اصدارات لنظام التشغيل الويندوز. قارن بين الاصدارين ويندوز 7 و ويندوز 8.

مع امنياتي لكم بالتوفيق والنجاح

رئيس القسم

أ.م.د. وليد مية رودين

العميد

أ.د. عبد الحسين توفيق شبلي

مدرس المادة

م. احمد ناصر اسماعيل



جمهورية العراق
وزارة التعليم العالي والبحث العلمي
جامعة البصرة
كلية الإدارة والاقتصاد
قسم نظم المعلومات الادارية



أسئلة الامتحان النهائي للعام الدراسي 2023-2024 - الفصل الاول- الدور الاول

المادة: الاقتصاد الجزئي المرحلة: الاولى التاريخ ع / ح / 2024 الزمن: ساعات

ملاحظة: الإجابة عن خمسة أسئلة فقط (10 درجات لكل سؤال)

س1: اختار الاجابة الصحيحة لكل مما يأتي:-

1- هي العناء الذي يحصل عليه المستهلك في سبيل الحصول على وحدة السلعة وذلك بدفع سعرها
أ- المنفعة الحدية المكتسبة ب- المنفعة الكلية ج- المنفعة المضحية بها د- المنفعة الحدية

2- إذا استمر المستهلك باستخدام وحدات اضافية من السلعة فإن المنفعة الحدية ستكون

أ- موجبة ب- سالبة ج- متزايدة د- متناقصة

3- ان شرط توازن المستهلك في حالة وجود سلعة واحدة هي ان تتساوى

أ- المنفعة الحدية المكتسبة من السلعة مع المنفعة الحدية المضحية بها

ب- المنفعة الحدية مع المنفعة الكلية

ت- المنفعة الكلية المكتسبة مع المنفعة الحدية

ث- المنفعة الحدية المضحية بها مع المنفعة الكلية المكتسبة

4- ينص على وجود علاقة عكسية بين الكمية المطلوبة والسعر، مع ثبات بقية العوامل الأخرى على حالها.

أ- قانون الطلب

ب- قانون العرض

ت- قانون انجل

ث- قانون المنفعة المتناقصة

5- إذا كان التغيير في السعر يؤدي إلى تغيير الكمية المطلوبة ومعامل المرونة يساوي واحد.

أ- الطلب متكافئ المرونة

ب- الطلب المرن

ت- الطلب عديم المرونة

6- العوامل التي تؤثر على مرونة الطلب السعرية:

أ- مدى قابلية السلعة للتخزين

ب- طبيعة العملية الإنتاجية.

ت- طول المدة الزمنية ومرونة عرض عناصر الإنتاج.

ث- جميع الاجابات خاطئة

7- هو عبارة عن الاضافة التي تتحقق في الإيراد الكلي الناشئة عن بيع وحدة إضافية من السلعة وهو يمثل الفرق الحاصل بين

الإيرادين بعد تغيير الكمية المباعة بأضافة وحدة من السلعة.

أ- الإيراد الحدي ب- المنفعة الكلية ج- المنفعة الحدية د- فائض المستهلك

8- توقعات المستهلكين بزيادة دخولهم أو زيادة أسعار السلع التي يستهلكونها هو من العوامل التي تؤثر على

أ- الإيراد الحدي ب- الإيراد الكلي ج- جانب الطلب

9- يكون المستهلك في حالة توازن والذي يمثل له افضل وضع ممكن عندما يهدف الى تعظيم

أ- المنفعة الكلية الصافية

ب- المنفعة المضحية بها

ت- المنفعة الكلية

ث- المنفعة الكلية المكتسبة

10- إشارة مرونة الطلب السعرية تكون دائما سالبة بسبب

العلاقة الطردية ب- العلاقة العكسية ج- لا توجد علاقة د انخفاض سعر السلعة

س2: اجب عن كل مما يأتي
 أ- ماذا نعني بمرونة الطلب السعرية ومرونة الطلب الدخلية ومرونة الطلب التقاطعية؟
 ب- إذا ارتفع سعر سلعة معينة من 60 دينار إلى 80 دينار وأدى ذلك إلى انخفاض الكمية المطلوبة من 1000 وحدة إلى 900 وحدة فما هو معامل المرونة؟ ونوع الطلب؟ ولماذا.

س3: أ: ماذا يقصد بالطلب عديم المرونة والطلب لانتهائي المرونة وضح ذلك مع الرسوم البيانية.
 ب - إذا ارتفع دخل شخص ما من (400) دينار إلى (600) وأدى ذلك إلى زيادة الكمية المطلوبة من سلعة ما من 20 وحدة إلى 40 وحدة اوجد معامل المرونة؟ ونوع الطلب؟ ونوع السلعة؟


س4: اجب عن كل مما يأتي
 أ- استندت نظرية المنفعة الحدية إلى مجموعة من الافتراضات ، ما هي هذه الافتراضات التي تقوم عليها نظرية المنفعة؟
 ب- ما هو مفهوم الطلب وما هو منحنى الطلب؟ وماهي العناصر التي يحتوي عليها الطلب؟ مع توضيح الشكل البياني؟

س5: هناك نظريتان رئيسيتان في تحليل سلوك المستهلك وكلا النظريتين تقومان على فكرة المنفعة ولكن تختلفان في الافتراضات والأدوات التحليلية المستخدمة. و من هذه النظريات هي نظرية منحنيات السواء فما هو مفهوم نظرية منحنيات السواء؟ وما هي الافتراضات التي تقوم عليها؟ وما هي خصائص منحنيات السواء؟

س6: اجب عن كل مما يأتي
 أ- ماذا نعني بالمنفعة الحدية والمنفعة الكلية وضحها، مع توضيح الإشكال البيانية؟
 ب- إذا كانت لديك المعلومات الآتية: المطلوب / استخرج المنفعة الحدية؟


10	9	8	7	6	5	4	3	2	1	Q	الوحدات المستهلكة
52	54	56	60	60	56	48	36	20	0	TU	المنفعة الكلية
										MU	المنفعة الحدية

مع التمنيات لكم بالنجاح



رئيس القسم

أ.م.د. وليد مية روين



العميد

أ.د. عبد الحسين توفيق شبلي



مدرس المادة

أ.م.د. سكنه جهيه فرج



جمهورية العراق
وزارة التعليم العالي والبحث العلمي
جامعة البصرة
كلية الإدارة والاقتصاد
قسم نظم المعلومات الادارية



المادة : محاسبة - المرحلة : الاولى التاريخ / ١ / ٢٠٢٤ الزمن : ساعتان

ملاحظة : الاجابة عن اربعة اسئلة فقط و لكل سؤال ١٢,٥ درجة

س ١ :- اكمل الفراغات الاتية

- ١- تعرف المحاسبة على أنها _____
- ٢- تسمى المصاريف الرأسمالية لأنها تتعلق بشراء الموجودات الثابتة او اضافة اجزاء عليها او توسعات او تطورات ضرورية تسهم في _____ و _____
- ٣- يتشابه المحاسب وماسك الدفاتر بـ _____ و يختلف المحاسب عن ماسك الدفاتر بـ _____
- ٤- مستخدمي المعلومات المحاسبية _____ و _____
- ٥- المحددات المحاسبية هي _____ و _____ و _____

س ٢ :- كانت الميزانية العمومية لشركة النور التجارية كما هي في ٢٠١٩/١/١

الميزانية العمومية لشركة النور التجارية كما هي في ٢٠١٩/١/١

٢١٠٠٠٠ دانون (خالد)	٢٥٠٠٠٠ الصندوق
٥٠٠٠٠٠ رأس المال (المالك نوري)	١٥٠٠٠٠ المصرف
	٥٠٠٠٠٠ مدينون (رافد)
	١٥٠٠٠٠ اجهزة
	٨٠٠٠٠ اثاث
	٣٠٠٠٠ سيارات
٧١٠٠٠٠	٧١٠٠٠٠

اذ تمت العمليات التالية خلال السنة

- ١- شراء اثاث بمبلغ ٢٥٠٠٠٠ دينار نقدا
- ٢- دفع المالك سعيد ايجار بيته البالغ ٦٠٠٠٠٠ دينار نقدا
- ٣- سداد نصف من مستحقات خالد بقرض من المصرف
- ٤- سدد التاجر رافد نصف ما بذمته نقدا
- ٥- تنازل المالك نوري عن ٢٥% من رأس ماله الى ابنه انور

المطلوب / بيان اثر العمليات اعلاه على قائمة الميزانية العمومية لشركة النور التجارية

س ٣ :-

- ١- في ٢٠١٣/٦/١ قامت الشركة بشراء سيارة بمبلغ ٧٠٠٠٠٠٠٠ دينار دفعت قيمتها بشيك مسحوب على حساب الشركة لدى المصرف .
- ٢- ٢٠٢١/٦/٢ دفعت الشركة مصاريف نقل ٩٠٠٠٠٠ دينار نقدا
- ٣- ٢٠١٣/٦/٣ دفعت الشركة مصاريف الوقود و الزيوت البالغة ٢٥٠٠٠٠ دينار للعمل التجريبي للسيارة
- ٤- ٢٠١٣/٦/٥ تم التشغيل العملي للسيارة
- ٥- ٢٠١٣/٨/٢٠ دفعت الشركة مصاريف الوقود و الزيوت للسيارة قيمتها ٧٥٠٠٠٠ دينار نقدا.

المطلوب :- تسجيل القيود اليومية اللازمة

س ٤ :- توافرت لديك بعض العمليات التي تمت في شركة اليقين التجارية

- ١- بيع بضاعة بمبلغ ٥٠٠٠٠٠٠ دينار نقدا
- ٢- بيع بضاعة بمبلغ ٣٠٠٠٠٠٠ دينار الى التاجر تحسين على الحساب
- ٣- شراء اثاث بمبلغ ٦٠٠٠٠٠٠ دينار دفعها المالك من حسابه الخاص
- ٤- شراء بضاعة بمبلغ ١٠٠٠٠٠٠٠ دينار دفعت بشيك من حساب الشركة لدى المصرف
- ٥- شراء بضاعة من التاجر محمد بمبلغ ٢٠٠٠٠٠٠ دينار على الحساب
- ٦- تم دفع الرواتب البالغة ٥٠٠٠٠٠٠٠٠ دينار نقدا

المطلوب :- تحديد الطرف المدين و الطرف الدائن من كل عملية من العمليات اعلاه

س ٥ :- عرف المبادئ المحاسبية و عددها و اشرح واحدة منها

مع تمنياتي لكم بالتوفيق والنجاح

رئيس القسم

أ.م.د . وليد مية رودين

مدرس المادة

م.م إيمان كاظم الضاحي



University of Basrah
College of Administration and Economics
Department of Management Information System
Final Exam
Semester 1
2023/2024



Subject: English Language 1st stage Date: Time: Two hours

Note: Answer FOUR questions only, and for each question, (12.5 marks)

Q1/ Read the following texts carefully and describe whether these statements are True (T) or False (F).

Wesley Chu is eight years old. He is a happy little boy, but he plays serious music. He is a world-famous pianist. He can also write music. Some people call him the new Mozart. Every year, he travels the world and gives concerts. Last year he was in London, Hong Kong, and Rome. It's fun, he says. Wesley was born in Calgary, Canada, where he still lives with his parents and his two sisters. He goes to school five days a week and practices piano for two hours a day. Wesley could play the piano when he was only three years old. He could write music before he could write the alphabet. He wrote his first piece of music when he was five. Wesley doesn't just play the piano and write music. He also likes watching TV, playing video games, and playing football. He says, Mozart was poor and he couldn't play football, so I am not like him at all.

1. Wesley wrote his first piece of music before the age of six.
2. Wesley considers himself similar to Mozart because they both enjoy playing football.
3. Wesley Chu couldn't write music before he could write the alphabet.
4. Wesley could play the piano before the age of four.
5. Wesley loves playing football and lives a poor life
6. Wesley is a happy little boy, but he sings beautiful songs.

Q2 / Translate the vocabulary in the table below into Arabic.

English language	Arabic Language	English language	Arabic Language
Magazine		Key	
Near		Jogging	
Upstairs		Dictionary	
Washing machine		Noisy	
Grey		Favorite	
Steps		Scientist	

Q3/Choose the correct form of the verbs

1. Alito school five days a week. (went/goes/go)
2. They didn't play football after school.....? (didn't they / did they / do they)
3. Theya movie yesterday. (watched/ are watching/watch)
4. The sun rises in the west.....? (does it / doesn't it / did it)
5. Ahmed and Samibasketball on weekends. (play / plays/ played)
6. Theyto travel to Europe next summer. (goes/ are going/go)

Q4/Complete the following sentence with suitable words in the blank.

(horrible, department , difficult ,walk ,shop, cheap ,help, beach ,warm)


1. We spent the day at the....., swimming in the sea.
2. Theweather in the summer made it perfect for a beach holiday.
3. It's achoice, but I've got to decide which job is better
4. Housing in this part of the country is very.....
5. I work in the Financial.....
6. We decided toto the park instead of driving.

Q5/ Read the following texts carefully and describe whether these statements are True (T) or False (F).


Joanne Ussery 54 years old, from Mississippi, is a big favorite with her two grandsons because she lives on a jet plane. Her home is a Boeing 727, so a visit to grandma is very special. Joanne's front door is at the top of the plane's steps, but you don't need a ticket or a passport when you visit. There are three bedrooms, a living room, and a luxury bathroom. The bathroom is in the cockpit, with the bath under the windows. Next to this Joanne's bedroom in the first-class section of the plane. Then there's the living room with four emergency exit doors, which she opens on summer evenings. On the wall, there is a photo of the plane flying for Continental Airlines from Florida to the Caribbean. The plane cost Joanne just \$2,000. She says, Next time I want Boeing 747, not 727 because they have an upstairs and a downstairs, and I want to go upstairs to bed.

1. Joanne's home is a Boeing 747
2. Joanne wants a Boeing 747 because it has more bedrooms.
3. Joanne purchased the plane for two thousand dollars.
4. Joanne prefers a Boeing 727 over a Boeing 747 because it has both upstairs and downstairs.
5. Joanne Ussery is forty-five years old.
6. Joanne's home includes a luxury bedroom.


Good Luck



A.L. Mohammed Hashim Al-Sharaa
Lecturer



A.P.Dr. Walid Maya Rodin
Head of Department



P.Dr. Abdul-Hussein Tawfiq Shibli
The Dean



جمهورية العراق
وزارة التعليم العالي والبحث العلمي
جامعة البصرة
كلية الإدارة والاقتصاد
قسم نظم المعلومات الادارية
الدراسات الصباحية والمسائية




أسئلة الامتحان النهائي للعام الدراسي ٢٠٢٣-٢٠٢٤ - الفصل الاول- الدور (الاول)
المادة: ادارة التغيير والابداع المرحلة: الثانية التاريخ: ٢٠٢٣ ... الزمن: ساعتان


ملاحظة: الإجابة عن خمسة أسئلة فقط (لكل سؤال ١٠ درجات)

- س١/ ماهي أسباب مقاومة التغيير؟ عددها واطرح واحدة منها .
- س٢/ تختلف ردود أفعال الناس عن التغييرات المفاجئة من حولهم . ويمكن التمييز بين عدة مراحل تمر بها ردود الأفعال . وضحتها .
- س٣/ عند الاتفاق مع المزود للنظام المقترح يجب الاخذ بعين الاعتبار عدة نقاط ما هي ؟
- س٤/ ماهي العناصر الأساسية لكي يكون الاتصال فعال ؟
- س٥/ ما هي مجالات التغيير ؟
- س٦/ وضع بالرسم مراحل اختيار النظام الصحيح .


مع امنياتي لكم بالتوفيق والنجاح


رئيس القسم

أ.م.د . وليد مية رودين


المعيد

أ.د. عبد الحسين توفيق شبلي


مدرس المادة

مريم سالم جبار



جمهورية العراق
وزارة التعليم العالي والبحث العلمي
جامعة البصرة
كلية الإدارة والاقتصاد
قسم نظم المعلومات الادارية
الدراسات الصباحية والمسائية



أسئلة الامتحان النهائي للعام الدراسي 2023 - 2024 - الفصل الاول - الدور (الاول)
المادة : نظم المعلومات المحاسبية... المرحلة : ... الثانية... التاريخ /28 /12 /2023 ... الزمن : ساعتان

ملاحظة: الاجابة: عن اربعة اسئلة ولكل سؤال (12.5 درجة)

س1/ بين عناصر النظام بشكل عام , وظائفه وفعالته معززا اجبتك بمخطط توضيحي ؟

س2/ هنالك مجموعة من المبادئ من خلالها يتم تصميم نظم معالجة العمليات بشكل فعال . بما هي اهم تلك المبادئ , وضحا بالتفصيل ؟

س3/ ماذا يقصد بحسابات الاستاذ المساعد ودفتر الاستاذ العام , وما هي العلاقة بينهما ؟

س4/ وضح الإجراءات اليدوية لدورة الإيرادات في قسم المبيعات , قسم الائتمان , المخازن , وقسم الشحن ؟

س5/ وضح دورة تكاليف الانتاج في محاسبة التكاليف مع تصوير الحسابات اللازمة ؟

س6 عدد خصائص المعلومات المفيدة مع عرض مختصر لكل خاصية ؟

مع امنياتي لكم بالتوفيق والنجاح

رئيس القسم

أ.م.د . وليد مية رودين

العميد

أ.د. عبد الحسين توفيق شبلي

مدرس المادة

أ.م.د عبد الكريم عبد الرحيم علي



جمهورية العراق
وزارة التعليم العالي والبحث العلمي
جامعة البصرة
كلية الإدارة والاقتصاد
قسم نظم المعلومات الادائية



أسئلة الامتحان النهائي للعام الدراسي 2023-2024 - الفصل الاول- الدور (الأول)
المادة تكنولوجيا معلومات المرحلة : الثانية التاريخ 2023/9/9 الزمن : ساعتان

ملاحظة: الإجابة: الإجابة عن خمس أسئلة فقط لكل سؤال ١٠ درجات

س1/ ارسم شكلا يوضح وظائف نظام المعلومات ؟

س2// حدد بأربع نقاط لماذا تحتاج الشركات للانترنت ؟

س3// تحدث عن الآتي بما لا يقل عن خمس أسطر لكل منهما (1- ARPA/2- ماهي إدارة سلسلة الامدادات)

س4// حدد بجدول فوائد ومخاطر التعليم الالكتروني ؟

س5// حدد بنقاط (1- فوائد تكنولوجيا المعلومات للبشر /2- سمات الإدارة العلمية الرقمية)

س6// عرف الآتي (منهج إدارة المشاريع /الانترنت / الاكسترنات /بحوث العمليات /المحاكاة والتمذجة)

س7// عرف التجارة الالكترونية من جانب الشراء/البيع /التجارة الالكترونية

مع امنياتي لكم بالتوفيق والنجاح

رئيس القسم

أ.م.د. وليد مية رودين

العميد

أ.د. عبد الحسين توفيق شبلي

مدرس المادة

م.د. عرفات ناصر جاسم



University of Basrah
College of Administration and Economics
Department of Management Information System
Final Exam
Semester 1
2023/2024



Subject: English Language Stage Two Date: Time: Two hours

Note: Answer FIVE questions only, and for each question, (10 marks)

Q1/ Read these texts carefully and answer the following question

Bangkok, the capital of Thailand, is a city of contrasts. The tall glass buildings look like any other modern city. But behind them is a place where life hasn't changed for over 100 years- the canals. Built in 1866 by the king of Thailand. There are four floating markets around Bangkok, and the oldest and most popular is in the town of Damonen Saduak. This market opens every day from 6:30 am. It's best to shop early and go by water taxi. After 9 am, the tourist buses arrive, and it is much too busy. It is a colourful, noisy, fascinating place. Old ladies with huge hats sit in small boats filled with tropical fruit and vegetables, fresh coconut juice and local food. But the boats don't just sell food. Would you like a traditional hat? A silk dress? A flowered shirt? Then just call and point.

1. What days and times is the Damonen Saduak market open?
2. What food does it sell? Give some examples.
3. Who built the canals around Bangkok, and what year were they built?
4. What is the best time to visit the Damonen Saduak floating market to avoid crowds?
5. How many floating markets are around Bangkok, and which one is the oldest and most popular?

Q2/Choose the correct answer.

1. Ito the gym three times a week. (am going / go / went)
2. They _____ a new car last month. (bought/ buy / buying)
3. Have you your homework? (has done /already done /done)
4. Sarah _____ her favorite book last night. (read / reads / is reading)
5. They haven't seen that movie..... (yesterday / yet/ since)
6. _____ did you go to the party?. (What / Who / How far)
7. _____ color is your car?. (Which / What/ whose)
8. _____ books did you read last month?. (How much / How/ How many)
9. _____ is the nearest post office?. (How / When/ Where)
10. Nurses after people in hospital. (are looking/ look/ looks)

Q3/Complete the following sentence with suitable words in the blank.

(way, exciting, eat, exports, kind, find, need, wash, show, wears, live)

1. We plan to increase ourover the next five years.
2. Babiesconstant care
3. It was a reallymatch.
4. I canspicy food.

5. I couldn'tAli's phone number..
6. It's very...of you to help us.
7. Let meyou this new book I've just bought
8. Do you know theto the restaurant?
9. He glasses for reading.
10. You mustyour hands.

Q4/ Re-write the following sentence below in the positive form.

1. I haven't seen that movie.
2. They didn't finish the project.
3. They aren't going on vacation this year.
4. She doesn't have a cat.
5. We haven't met the new neighbors.
6. We won't travel to Baghdad next summer.
7. Ali didn't pass the exam.
8. They will not buy a new car in the next year.
9. Ahmed doesn't eat vegetables.
10. He won't start his new job next month.

Q5 / Translate the vocabulary in the table below into Arabic.


English language	Arabic Language	English language	Arabic Language
Impact		live	
Development		Watch	
Decision		Communication	
Mention		Train	
Society		Graduated	

Q6/ Read these texts carefully and answer the following question

Animals have ways of exchanging information. Bees dance and tell other bees where to find food. Elephants make sounds that humans can not hear. Whales sing songs. Monkeys use their faces to show anger and love. But this is nothing compared to what people can do. We have languages- about 6000 languages. We can write poetry, tell jokes, make promises, explain, tell the truth, or tell lies. And we have a sense of the past and future, not just the present.

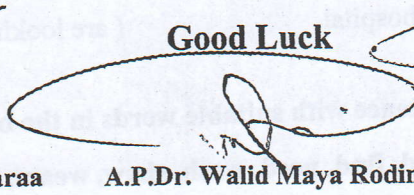
- 1 .What is one way that whales communicate?
- 2 .How do elephants communicate, and can humans hear these sounds?
- 3 .What are some things that humans can do with languages?
- 4 .What makes humans different from animals regarding their understanding of time?
- 5 .How do bees communicate information to each other?

Good Luck




A.L. Mohammed Hashim Al-Sharaa

Lecturer



A.P.Dr. Walid Maya Rodin

Head of Department



P.Dr. Abdul-Hussein Tawfiq Shibli

The Dean



جمهورية العراق
وزارة التعليم العالي والبحث العلمي
جامعة البصرة
كلية الإدارة والاقتصاد
قسم نظم المعلومات الإدارية



أسئلة الامتحان النهائي للعام الدراسي 2023-2024 - الفصل الاول- الدور ()
المادة : جرائم حزب البعث المرحلة : الثانية التاريخ 4 / 1 / 2023 الزمن : ساعتان

ملاحظة: الإجابة على

س1/ اختر الإجابة الصحيحة من بين الأقواس لخمس فقط؟

- 1- عاش العراق تحت هيمنة نظام شمولي دموي تمثل في نظام دام أكثر من ثلاثة عقود (الحزب المتعدد - الحزب الواحد- الحزب المتسلط).
- 2- كان النظام البائد يتعامل مع الشعب العراقي على اساس.....(الاقصاء - التمييز والاقصاء على نهج طائفي - العدل والمساواة).
- 3- عمل النظام السابق على اسقاط الجنسية العراقية عن نحو(نصف مليون عراقي - مليون عراقي - مئة عراقي).
- 4- يعد من بين أهم القواعد القانونية التي تنظم العلاقات الدولية (القانون الوطني - القانون المحلي - القانون الدولي).
- 6- فرض الحصار على العراق نتيجة غزو(ايران- الكويت - الخليج).
- 7- استعمل حزب البعث اسلحة محرمة دولياً في أماكن مختلفة من العراق منها(بغداد- الموصل - البصرة)

س2/ ضع كلمة صح امام العبارة الصحيحة وكلمة خطأ امام العبارة الخاطئة لخمس مما يأتي؟

- 1- من الانجازات الظاهرة التي تمت في العهد الملكي هو انشاء مجلس الاعمار.
- 2- ان الحقوق السياسية بحسب مفهوم حزب البعث البائد للديمقراطية كانت عامة لجميع فئات الشعب دون تمييز.
- 3- قد أجرى النظام البعثي أول عملية انتخابية في عام 1980 بعد ان غابت لأكثر من 22 عاماً.
- 4- يعد الاعتقال على الشبهة احد أدوات الرعب التي مارسها حزب البعث فقد شمل اعتقال العراقيين فقط دون الاجانب.
- 5- ان من نتائج انتفاضة صفر 1977 هـ كشفت عن ضعف نظام البعث وتهوره في اعتقال الالاف من الشيوخ والنساء والاطفال عراقيين وغير عراقيين.
- 6- ان السلطة التنفيذية الحكومة هي الاداة التي تشرع القوانين وتصدر القرارات.
- 7- تعد معركة نهر جاسم أكبر معركة في الحرب العراقية الايرانية من ناحية الخسائر المادية والبشرية.


س3: ما هي اثار سلوكيات النظام البعثي في المجتمع وتسلطه على الدولة؟

س4: كان لحكم البعث الاثر السلبي في افساد الاخلاق لدى فئات المجتمع خاصة الشباب والنساء، ما هي هذه الاثار السلبية؟


س5: ماهي الاثار المترتبة على تجفيف الأهوار؟ وضحاها؟

س6: ما هو مفهوم العدالة الانتقالية؟ وماهي مزاياها؟


مع امنياتي لكم بالتوفيق والنجاح




رئيس القسم
أ.م.د. وليد مية رودين



العميد
أ.د. عبدالحسين توفيق شبلي



مدرس المادة
م.د. دنيا سلمان محسن



مدرس المادة
أ.م.د. سكنه جهيه فرج



جمهورية العراق
وزارة التعليم العالي والبحث العلمي
جامعة البصرة
كلية الإدارة والاقتصاد
قسم نظم المعلومات الادارية
الدراسات الصباحية والمسائية



أسئلة الامتحان النهائي للعام الدراسي 2023-2024 -الفصل الاول- الدور ()
المادة: المرحلة: التاريخ: / / 2023 الزمن: ساعتان

ملاحظة: الإجابة على خمس أسئلة فقط ولكل سؤال 10 درجات

س1/ عرف كل مما يأتي:

- 1- لغة البرمجة C++
- 2- المعارف
- 3- العمليات المنطقية
- 4- عامل الزيادة
- 5- اخطاء الربط

س2/ اجب بعبارة صح او خطأ مع تصحيح الخطأ ان وجد.

- 1- في لغة البرمجة C++ يمكن اضافة تعليقات او توضيحات على الكود البرمجي باستخدام \\.
- 2- في لغة البرمجة C++ تعتبر قيمة $X = 4$ من المتغيرات.
- 3- في لغة البرمجة C++ تعتبر ناتج العملية $X = 10 + 4 * 2$ هو 28.
- 4- في لغة البرمجة C++ تعتبر عبارة For ذات امكانيات كبيرة ومرنة ويمكن تنفيذها ب 4 خطوات.
- 5- في لغة البرمجة C++ لاتستخدم الفارزة المنصوطة بعد الامر While.

س3/ اكتب برنامج لحساب المسافة بين النقطتين $a(x, y, z)$ و $b(x, y, z)$ اذا علمت ان المسافة تساوي

$$d = \sqrt{(ax - bx)^2 + (ay - by)^2 + (az - bz)^2}$$


س4/ اكتب برنامج بلغة ++C لادخال رقم صحيح (n) ثم يحسب ويطبع جدول الضرب له (حاصل الضرب لغاية 15)

اعادة كتابة الكود البرمجي ادناه بعد تصحيح اخطائه اللغوية (syntax errors).


```
1 #include <iostream>;
2 using name |space std;
3 int main()
4 {
5     int degree;
6     cin <<degree;
7     if((degree >100)||((degree <0))
8     cout>>"invalid entry";
9     else;
10    if (degree>=50 )&&(degree <=59);
11    cout<<"accept";
12    else;
13    if ((degree>=60 )&&(degree <=69));
14    cout<<"mediun";
15    else
16    if ((degree>=70 )&&(degree <=79));
17    cout<<"good";
18    else;
19    if ((degree>=80 )&&(degree <=89));
20    cout<<"very good";
21    else;
22    if ((degree>=90 )&&(degree <=100));
23    cout<<"excellent";
24    else;
25    cout<<"fail";
26    return 0
27 }
```

ماهو جدول عامل الربط not وماهو رمزه في لغة C++ ثم اكتب برنامج يقرأ عدد صحيح ثم يطبع كلمة odd اذا فردي او كلمة even اذا كان زوجي باستخدام هذا العامل.

مع امنياتي لكم بالتوفيق والنجاح


رئيس القسم


العميد


س المادة

أحمد وليد مية، مدير

أحمد عبدالحسين، توفيق، شبل

احمد ناصر



جمهورية العراق
وزارة التعليم العالي والبحث العلمي
جامعة البصرة
كلية الإدارة والاقتصاد
قسم نظم المعلومات الادارية
الدراسات الصباحية والمسائية



أسئلة الامتحان النهائي للعام الدراسي 2023-2024 - الفصل الاول- الدور الاول
المادة : نظرية المنظمة المرحلة : الثانية التاريخ 7/1/2024 الزمن : ساعتان

ملاحظة: الإجابة على خمس أسئلة فقط لكل سؤال 10 درجات.

السؤال الاول: اجب عن احد الفرعين أ – تفيد نظرية المنظمة في بناء منظومة تفكير منطقية تساعد المديرين والباحثين على ما يأتي ؟

عرف ما ياتي : 1- مفهوم الكفاءة 2- التعقيد 3- الهيكل التنظيمي 4- المركزية ؟

السؤال الثاني: اشرح مكونات بيئة المنظمة وهناك اربعة منظورات اذكر تلك المنظورات؟

السؤال الثالث: قسم مايلز وسنو الاستراتيجيات التي تتبعها المنظمات المختلفة الى اربعة انواع رئيسة تتبعها مختلف المنظمات الربحية وغير الربحية عددها فقط مع رسم جدول الاستراتيجيات المختلفة والبيئات التي تتناسب معها ؟

السؤال الرابع: عدد خصائص النظم المفتوح ثم اشرح اثنان من النظام مع رسم شكل النظام المفتوح ؟

السؤال الخامس: يوجد معايير الفعالية التنظيمية اجرانيا الى مؤشرات هي وسائل وليس غايات بحد ذاتها اذكر تلك المعايير ؟


السؤال السادس: أ - هناك معطيات كثيرة يمكن ان تاخذ بنظر الاعتبار لغرض دراسة العلاقة والتأثير لدور حياة المنظمة على ابعاد الهيكل وخصائصه ومنها؟

ب - اشرح ما فهمته عن نظرية المنظمة واهميتها في الشركات والمؤسسات ؟


مع امنياتي لكم بالتوفيق والنجاح


رئيس القسم

أ.م.د. وليد مية رودين


العميد

أ.د. عبد الحسين توفيق شبلي


مدرس المادة

د.جواد اجباري عبدال



جمهورية العراق
وزارة التعليم العالي والبحث العلمي
جامعة البصرة
كلية الإدارة والاقتصاد
قسم نظم المعلومات الادارية



اسئلة الامتحان النهائي للعام الدراسي 2023-2024 -الفصل الاول- الدور (الأول)
المادة قواعد البيانات 1 المرحلة : الثانية التاريخ // 2023 الزمن : ساعات

ملاحظة: الإجابة: الإجابة عن اربعة أسئلة فقط وتوزع الدرجات بالتساوي

س1: املا الفراغات التالية بما يناسبها

1. الشخص الذي يقوم بعمل واجهات لقاعدة البيانات ومحتوياتها يظف عليه ب.....
2. يقصد بها المقدرة على تغيير المخطط الداخلي دون الحاجة الى تغيير المخطط المفاهيمي
3. من المميزات العامة لانظمة قواعد البيانات هناك ميزة هناك ميزة داخل النظام بالامكان التعديل مثل الحذف والاضافة تدعى
4. من مكونات نظام قاعد البيانات ال والتي تشمل اجهزة مثل الحاسبات والطابعات تدعى المكونات
5. هي اكثر انماط قواعد البيانات استخداما بعد ظهور حزم نظام ادارة قواعد البيانات وانتشارا وتكون هيكل قاعدة البيانات من جداول وكل جدول من اعمدو وصفوف
6. مجموعه من البرامج التي يمكن استخدامها في انشاء ومعالجة قواعد البيانات

س2: وضح نظام ادارة قواعد البنات (DBMS) وما هي وظائف قواعد البيانات ؟

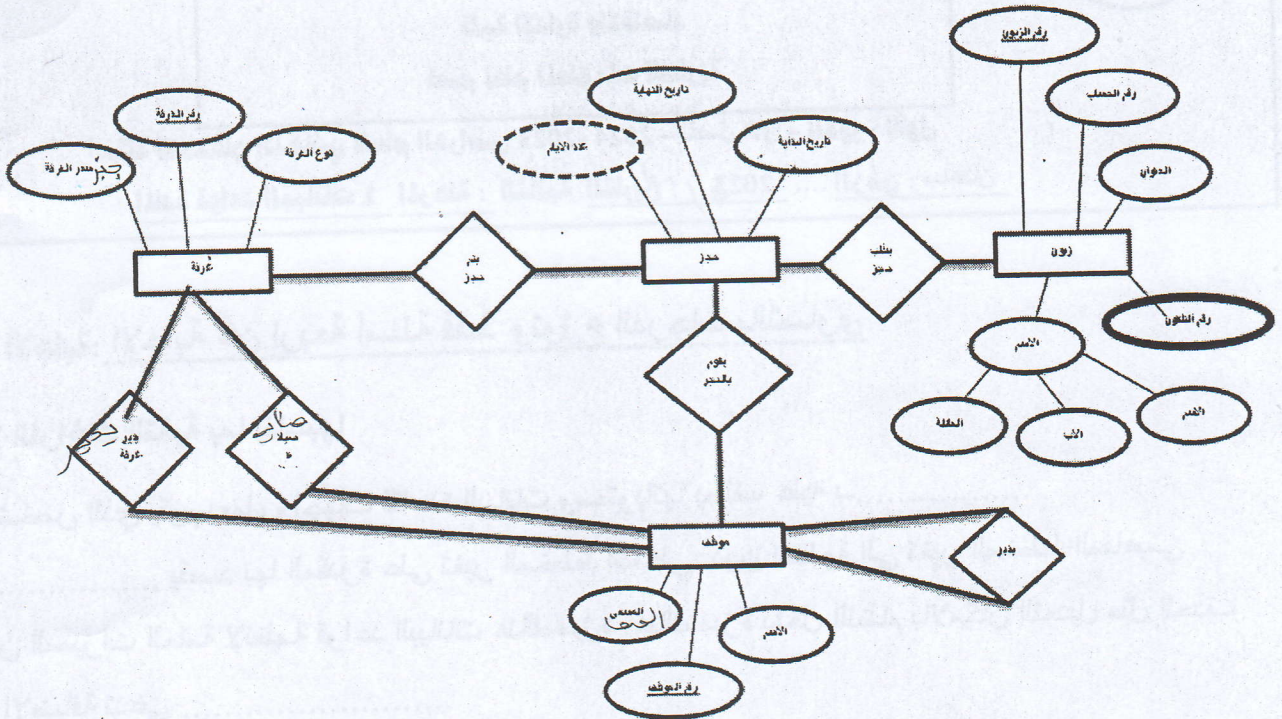
س3: وضح الفرق بين التالي

1. السجلات والحقول
2. مدير قواعد البيانات ومصمم قواعد البيانات

س4: صمم قاعدة بيانات للاستعارة الإلكترونية بالمعلومات التالية :

- المستعير (الرقم , الاسم , العمل , جهة العمل , تاريخ الميلاد)
- الكتاب (الرقم , عنوان الكتاب , عدد الصفحات , دار النشر , سنة النشر)
- المؤلف (اسم المؤلف , العنوان الالكتروني)

س5: اذا كان لديك مخطط RDMS التالي :



اجب عن التالي :

1. في الشكل علاقة واحد الى واحد
 أ. يدير ب. صيانة الغرف ج. يتم الحجز د. ليس مما ذكر
2. في الشكل مثال للصفة المركبة هي
 أ. صفة الاسم في كيان الزبون ب. صفة الرقم في كيان الزبون ج. صفة عدد الايام د. ليس مما ذكر
3. عدد الجداول الناتجة يساوي
 أ. 4 ب. 7 ج. 6 د. ليس مما ذكر
4. مثال على الصفة المشتقة
 أ. صفة رقم التلفون في كيان الزبون ب. صفة نوع الصيانه ج. صفة عدد الايام د. ليس مما ذكر
5. مثال على علاقة متعددة لمتعددة
 أ. يدير ب. يتم الحجز ج. صيانة الغرف د. ليس مما ذكر
6. في الشكل كيان قوي
 أ. يدير ب. يتم الحجز ج. صيانة الغرف د. ليس مما ذكر
7. عدد الايام ب. موظف ج. الغرف د. ليس مما ذكر

رئيس القسم

مع امنياتي لكم بالتوفيق والنجاح
 العميد

مدرس المادة



جمهورية العراق
وزارة التعليم العالي والبحث العلمي
جامعة البصرة
كلية الإدارة والاقتصاد



أسئلة الامتحان النهائي للعام الدراسي 2023-2024 - الدور ()
المادة: إدارة التسويق المرحلة: الثانية التاريخ / 2023 / ... الزمن: ساعتان

ملاحظة: الإجابة: عن خمس أسئلة فقط لكل سؤال (10 درجات)

س /	صحيح ما تحته خط : (10 درجات) الإجابة عن عشر نقاط فقط
1	<u>استدامة التسويق</u> هو مدى واسع من الفعاليات عن تقديم منتجات صديقة للبيئة عبر تحويل عمليات الإنتاج للسلع والتغيير في اساليب التعبئة والتغليف وانشطة التوزيع.
2	<u>الرضا</u> هو تعبير عن سلوك المستهلك بهدف الحصول على شيء ما ومقابل تقديم نقد.
3	<u>مفهوم الإنتاج</u> يركز على مخرجات العملية الانتاجية.
4	<u>التنفيذ التسويقي</u> هو الاستغلال المنظم للموارد التسويقية في المنظمة لإنجاز وتحقيق الاهداف التسويقية.
5	<u>التسويق</u> هو الاداة التنفيذية للوصول الى الزبائن وتحقيق الاشباع لحاجاتهم وتلبية رغباتهم.
6	<u>الرغبات</u> تتمثل بالاساسيات التي يسعى اليها الانسان. بهدف الحصول عليها لكونها تمثل اساسا مهم لبقائه واستمراره بالحياة.
7	<u>القيم والاهداف المشتركة</u> تعني المبادئ والمعايير التي يجب اتباعها في عملية التسويق من اجل ان يكون الاداء مقبولا من الجماعة المحيطة بالمنظمة.
8	<u>المجهزون</u> هم المجموعات التي تساعد الشركة على عمليات البيع والترويج والتوزيع لمنتجاتها الي المشترين.
9	<u>التحليل التسويقي</u> هو مجموعة القوى الخارجية المحيطة بالمنظمة والمتغيرات الداخلية والتي تؤثر بشكل مشترك على كفاءة الادارة التسويقية عبر انشطتها المختلفة لتقديم واشباع حاجات ورغبات الزبائن.

10	المنافسون هم العنصر الاكثر اهمية و تأثير في البيئة الجزئية لعمل الشركة لانهم الطرف المستهدف في عمل الشركة.
11	اسواق المؤسسات هي تلك الاسواق التي تقوم بشراء البضاعة او الخدمة لإعادة بيعها مرة اخرى بهدف تحقيق الربح.
12	يمكن معرفة ما هي الاعمال التي تقوم بها الشركة من خلال <u>تحديد غاياتها واهدافها</u> .
13	عمليات تقسيم السوق الشامل للسلع والخدمات الى اجزاء صغيرة تكون مجموعات متجانسة داخليا <u>السوق المستهدف</u> .

س2/ اجب عن احد الفرعين:

- أ- وضح بالرسم فقط مصفوفتي (النمو السوق / المنتج ، مجموعة بوسطن الاستشارية) ؟ (10 درجات)
ب- وضح بالرسم فقط عناصر المزيج التسويقي؟ (10 درجات)

س3/ لماذا تعتمد استراتيجية التسويق في الشركة وضح ذلك بنقاط ؟ (10 درجات)


س4/ وضح بشكل مختصر مبررات دراسة البيئة التسويقية ؟ (10 درجات)


س5/ وفقا لاختلاف وجهات النظر في تعريف التسويق فقد عرفه (الاقتصاديون من وجهة نظرهم الاقتصادية، الاداريون من وجهة النظر الادارية) وضح بالتفصيل وجهات النظر الثلاث لتعريف التسويق مشيرا الى مضامين كل تعريف؟ (10 درجات)


س6/ اجب عن كلا الفرعين:

- أ- اشرح ما المقصود بـ (مبدأ التعاضد و مبدأ $2+2=5$) ؟ (5 درجات)
ب- ان القرارات المتعلقة بالمزيج التسويقي لرسم وصياغة استراتيجية التسويق تتضمن خاصيتين اذكرهما بشكل مختصر؟ (5 درجات)

س7/ المسؤولية الاجتماعية لإدارات التسويق تنبع من هدفها في تحقيق رفاهية المجتمع وإسعاده، وذلك من خلال المسؤوليات التي يضطلع بها قسم التسويق على وفق عدد من المؤشرات وضحها بشكل مختصر ؟ (10 درجات)


رئيس القسم
أ. م. د. وليد ميه رودين


العميد
أ. د. عبد الحسين توفيق شبلي


مدرس المادة
م. م. امل طه ياسين

م. اريج كريم رحمان



جمهورية العراق
وزارة التعليم العالي والبحث العلمي
جامعة البصرة
كلية الإدارة والاقتصاد
قسم نظم المعلومات الادارية
الدراسات الصباحية والمسائية



أسئلة الامتحان النهائي للعام الدراسي 2023-2024 - الفصل الاول- الدور (الاول)
المادة : تحليل وتصميم النظم.... المرحلة : الثالثة..... التاريخ / / 2023 الزمن : ساعتان

ملاحظة: الاجابة عن خمسة اسئلة فقط ولكل سؤال 10 درجات :

- س1/ يعتبر دور نظم المعلومات الحاسوبية حيويا و مهما جدا في حياتنا اليومية. عرف نظام المعلومات المحاسبية ثم مكوناته الاساسية وانوعه .
- س2/ تصنف الانظمة وفقا للعديد من العوامل منها درجة تعقيد النظام. ارسم مخطط تصنيف النظام لنظام (حجز السفر الالكتروني).
- س3/ عرف مخطط تدفق البيانات (DFD) ثم عدد عناصره وخصائصه.
- س4/ ارسم مخطط الوظيفة الرئيسية (use case diagram) لنظام الصراف الالي.
- س5/ يعتبر الاستبيان من اهم الطرق استخداما لجمع المعلومات وهو جمع البيانات فوامها الاعتماد على مجموعة من الاسئلة لمجموعة من الافراد. اذكر مميزات وعيوب هذه الطريقة ؟
- س6/ تعتبر مرحلة التوثيق من اهم المراحل في دورة حياة تطوير وتصميم انظمة المعلومات. وضح عملية التوثيق مع بيان انواعه واهميته وطرقه .

مع امنياتي لكم بالتوفيق والنجاح

رئيس القسم

أ.م.د. وليد مية رودين

العميد

أ.د. عبدالحسين توفيق شبلي

مدرس المادة

م. احمد ناصر اسماعيل



جمهوری اسلامی ایران
وزارت بهداشت و درمان
سازمان غذا و دارو
سازمان نظام پزشکی
سازمان نظام دندانپزشکی



تلفن: ۰۲۱-۸۸۸۸۸۸۸۸ (خط ویژه) - تهران - خیابان ولیعصر - پلاک ۱۰۰
پست: ۱۹۱۹۵ - تهران - خیابان ولیعصر - پلاک ۱۰۰

تذکره (۱) رایج برای اطلاع کلیه پزشکان و دندانپزشکان

با توجه به شیوع ویروس کرونا و لزوم اتخاذ تدابیر احتیاطی جهت پیشگیری از انتقال ویروس، خواهشمند است کلیه پزشکان و دندانپزشکان در حین کار، ماسک بهداشتی بپوشانند.

همچنین خواهشمند است کلیه پزشکان و دندانپزشکان در حین کار، دستکش بهداشتی بپوشانند و پس از اتمام کار، دستها را با آب و صابون به مدت حداقل ۲۰ ثانیه بشویند.


سازمان غذا و دارو (SDF) - سازمان نظام پزشکی (NMO)

سازمان نظام دندانپزشکی (NDO) - سازمان نظام پزشکی (NMO)


تذکره (۱) رایج برای اطلاع کلیه پزشکان و دندانپزشکان و سایر کادر درمانی در خصوص شیوع ویروس کرونا و لزوم اتخاذ تدابیر احتیاطی جهت پیشگیری از انتقال ویروس، خواهشمند است کلیه کادر درمانی در حین کار، ماسک بهداشتی بپوشانند.

همچنین خواهشمند است کلیه کادر درمانی در حین کار، دستکش بهداشتی بپوشانند و پس از اتمام کار، دستها را با آب و صابون به مدت حداقل ۲۰ ثانیه بشویند.

تذکره (۲) رایج برای اطلاع کلیه پزشکان و دندانپزشکان


رئیس سازمان نظام پزشکی


رئیس سازمان نظام دندانپزشکی


رئیس سازمان غذا و دارو



جمهورية العراق
وزارة التعليم العالي والبحث العلمي
جامعة البصرة
كلية الإدارة والاقتصاد
قسم نظم المعلومات الادارية



أسئلة الامتحان النهائي للعام الدراسي ٢٠٢٣ - ٢٠٢٤ - الفصل الاول- الدور الاول
المادة : .. برمجة مرئية .. المرحلة : .. الثالثة .. التاريخ / / ٢٠٢٣ الزمن : ساعتان

ملاحظة: الاجابة عن خمسة اسئلة فقط

س١/ تتبع البرنامج التالي واجب عن ما يلي :

```
Private sub form-load ()  
C=1  
Do While ( C <= 20 )  
Print C;  
C=C+1  
Loop  
End sub
```

المطلوب:

١- بين ما الغرض من البرنامج ؟

٢- اعد كتابة البرنامج باستخدام Do ... Until مرة وباستخدام next for مرة اخرى ؟

س٢/ اجب عن التالي :

أ) تتبع تنفيذ العبارة الحسابية التالية : $4^3 / 4 * 4 + (10/2)$ ؟

ب) صمم واكتب برنامج لقراءة عددين وطباعة حاصل جمعهما باستخدام مربع النص ؟

س٣/ اكتب برنامج لطباعة التقدير بناء على معدل الطالب باستخدام جملة الخيار المتعدد بعد ان تتم قراءته كالتالي :

ضعيف: المعدل اكبر من صفر واصغر من 50

مقبول : المعدل اكبر من او يساوي 50 واصغر من 60

متوسط : المعدل اكبر من او يساوي 60 واصغر من 70

جيد : المعدل اكبر من او يساوي 70 واصغر من 80

جيد جدا : المعدل اكبر من او يساوي 80 واصغر من 90

ممتاز: المعدل اكبر من او يساوي 90 واصغر من او يساوي 100

س٤/ اكتب برنامج لطباعة درجات طلاب الى ان تدخل 1- يتوقف الادخال ثم جد عدد الدرجات الكلي وعدد الناجحين وعدد الراسبين ؟

س٥/ اجب عن كلا الفرعين:

(أ) ما هي شروط تسمية المتغير ؟

(ب) اكتب برنامج بلغة الفيچوال بيسك ٦ لطباعة مضاعفات العدد ٥ ؟

س٦/ اجب بكلمة صح او خطأ مصححا الخطأ ان وجد:

١- تعمل هذه الدالة () MsgBox على ادخال قيمة لأي متغير في البرنامج اثناء وقت تنفيذ البرنامج.

٢- تستخدم الاداة Label لكتابة وصف نصي لمدخلات او مخرجات نافذة البرنامج، وتكون $\frac{1}{2}$ افقة لمربع النص.

٣- الرمز % يعني ان المتغير من النوع الكسري المفرد single.

٤- يتم تنفيذ الجملة البرمجية الموجودة بعد sub End .

٥- يستخدم الامر Rem (للتوثيق بالبرنامج) لبيان عمل البرنامج فقط ، ولا يتم تنفيذ جمل التوثيق فهي بمثابة جمل ميتة.

٢٠٢٤-٠٢-٠١


٢٠٢٤-٠١-٠١

٢٠٢٤-٠١-٠١

٢٠٢٤-٠١-٠١

٢٠٢٤-٠١-٠١

مع امنياتي لكم بالتوفيق والنجاح



رئيس القسم

أ.م.د. وليد مية روين



العميد

أ.د. عبد الحسين توفيق شبلي



مدرس المادة

م.م. ايمان فريد خزل



جمهورية العراق
وزارة التعليم العالي والبحث العلمي
جامعة البصرة
كلية الإدارة والاقتصاد
قسم نظم المعلومات الادارية



أسئلة الامتحان النهائي للعام الدراسي 2023-2024 - الفصل الاول- الدور (الأول)
المادة : أمن المعلومات... المرحلة : الثالثة : التاريخ \ / < 2023/1 ... الزمن : ساعتان

ملاحظة : الإجابة على خمسة أسئلة فقط (لكل سؤال 10 درجات) .

س1 / عرف ما يأتي: (اجب عن اربعة فقط)

- الهجمات السيبرانية - الاختراق - السياسة الأمنية - التشفير - عناصر أمن المعلومات

س2/ ماهي التهديدات الفنية، وماهي عناصرها (الاثنان) اشرحهم.

س3 / أ- ماهي الشروط الواجب توافرها للاعتراف بالتصديق الرقمي فقط .

ب- ماهي المصطلحات الاساسية للتشفير عدد منها 5 فقط.

س4/ تكلم عن أمن وسائط نقل المعلومات وماهي نقاط توفير الحماية لمكوناتها.

س5/ (اجب عن احد الفرعين)

أ- ماهي قائمة التحكم بالوصول وماهي مراحل التحكم بالوصول.

ب- يمكن استخدام معيار أو أكثر للتحقق من الهوية حسب درجة قوة التحقق المطلوبة، عدد هذه المعايير مع شرحها باختصار.

س6/ (اجب عن احد الفرعين)

أ- ماهي أنماط الأمن السيبراني .

ب- ماهي أنواع الجرائم السيبرانية عدد 4 منها .

مع امنياتي لكم بالتوفيق والنجاح

رئيس القسم

أ.م. د وليد مية رودين

العميد

أ.د عبد الحسين توفيق شبلي

مدرس المادة

م.م الحسن علي العطار



جمهورية العراق
وزارة التعليم العالي والبحث العلمي
جامعة البصرة
كلية الإدارة والاقتصاد
قسم نظم المعلومات الادارية



أسئلة الامتحان النهائي للعام الدراسي 2023-2024 - الفصل الاول- الدور (الأول)
المادة : أمن المعلومات... المرحلة : الثالثة . التاريخ < / > 2023/1 ... الزمن : ساعتان

ملاحظة : الإجابة على خمسة أسئلة فقط (لكل سؤال 10 درجات) .

س1 / عرف ما يأتي: (اجب عن اربعة فقط)

- الهجمات السيبرانية - الاختراق - السياسة الأمنية - التشفير - عناصر أمن المعلومات

س2/ ماهي التهديدات الفنية، وماهي عناصرها (الاثنتان) اشرحهم.

س3 / أ- ماهي الشروط الواجب توافرها للاعتراف بالتصديق الرقمي فقط .

ب- ماهي المصطلحات الاساسية للتشفير عدد منها 5 فقط.

س4/ تكلم عن أمن وسائط نقل المعلومات وماهي نقاط توفير الحماية لمكوناتها.

س5 (اجب عن احد الفرعين)

أ- ماهي قائمة التحكم بالوصول وماهي مراحل التحكم بالوصول.

ب- يمكن استخدام معيار أو أكثر للتحقق من الهوية حسب درجة قوة التحقق المطلوبة، عدد هذه المعايير مع شرحها باختصار.

س6 (اجب عن احد الفرعين)

أ- ماهي أنماط الأمن السيبراني .

ب- ماهي أنواع الجرائم السيبرانية عدد 4 منها .

مع امنياتي لكم بالتوفيق والنجاح

رئيس القسم

أ.م. د وليد مية رودين

العميد

أ.د عبد الحسين توفيق شبلي

مدرس المادة

م.م الحسن علي العطار



جمهورية العراق
وزارة التعليم العالي والبحث العلمي
جامعة البصرة
كلية الإدارة والاقتصاد
قسم نظم المعلومات الادارية
الدراسات الصباحية والمسائية



أسئلة الامتحان النهائي للعام الدراسي 2023-2024 - الفصل الاول- الدور الاول
المادة : ادارة المشاريع المرحلة : الثالثة التاريخ : 2023 / 1 / 17 الزمن : ساعتان

ملاحظة: الإجابة على خمس أسئلة فقط لكل سؤال 10 درجات:

السؤال الاول: اجب عن احد الفرعين أ- عرف الآتي 1- عملية تعريف الانشطة 2- عملية تخطيط ادارة الجدول الزمني للمشروع 3- تحليل البديل 4- الاعتماد اجبارية ؟

ب - عدد مع الشرح خمس من التقنيات الجماعية (تقنيات المجموعات المبتكرة) التي يمكن تنظيمها لجميع وتحديد المتطلبات اهمها ؟

السؤال الثاني: اشرح الهياكل التنظيمية مع رسم جدول الهياكل التنظيمية ؟

السؤال الثالث: يحتوي المجال المعرفي الخاص بادارة ترابط المشروع على ست عمليات وهي ؟

السؤال الرابع: عندما يتلقى مدير المشروع اي طلب تغير change Request من احد المعنيين بالمشروع فانه يجب ان يقوم بالتالي ؟

السؤال الخامس: عملية الاغلاق للمشروع تشمل عددا من الاعمال التي يجب على مدير المشروع التحقق من تنفيذها وهي ؟

السؤال السادس: أ - اهم الخصائص الشخصية التي يجب ان يتمتع بها مدير المشروع هي ؟

ب- ماذا نقصد بمكتب ادارة المشاريع او ما يعرف بال PMO ودور مكتب ادارة المشاريع لا يخرج عن ثلاث اشكال هي؟

مع امنياتي لكم بالتوفيق والنجاح

رئيس القسم

أ.م.د. وليد مية رودين

العميد

أ.د. عبدالحسين توفيق شبلي

مدرس المادة

د.جواد اجباري عبدال

المرحلة: الثالثة
المادة: بحوث عمليات
مدة الامتحان: ساعتين
التاريخ: 11/9/2023



أسئلة الامتحان الفصل الأول
للعام الدراسي 2024/2023
الدور الأول



جامعة البصرة
كلية الإدارة والاقتصاد
قسم نظم المعلومات الادارية
الدراسة الصباحية والمسائية

ملاحظة : الأسئلة صفحتان وتكون الإجابة عن اربعة أسئلة فقط

س1/ حل مسألة البرمجة الخطية التالية بطريقة السمبلكس في حال الحل تطلب أكثر من جدول اكتب الجدول الأول فقط دون اكمال الحل

$$\max z = 50x_1 + 120x_2$$

s.t

$$2x_1 + 4x_2 \leq 80$$

$$3x_1 + x_2 \leq 60$$

$$x_1, x_2 \geq 0$$

(12.5 درجات)

س2/ اكتب الصيغة القياسية والقانونية لمسألة البرمجة الخطية التالية :

$$\text{Min } Z = 3x_1 + 6x_2 + x_3$$

$$\text{s.t } x_1 + 2x_2 + 2x_3 \geq 3$$

$$x_1 + x_2 - x_3 \geq 5$$

$$x_1 + x_2 + x_3 \geq 7$$

$$x_1, x_2, x_3 \geq 0$$

(12.5 درجات)

س3/ حل مسألة البرمجة الخطية التالية بطريقة الرسم البياني

$$\text{Max } z = 12x_1 + 14x_2$$

$$\text{s.t } 2x_1 + 3x_2 \leq 24$$

$$4x_1 + 2x_2 \leq 16$$

$$x_1, x_2, x_3 \geq 0$$

(12.5 درجات)



يتبع لطفاً

س4/ تنتج شركات معينة ثلاث منتجات من خلال استعمال نوعين من المواد الاولية (A2, A1) عدد الوحدات المتوفرة من المادة (A1=1500) ووحدة والمادة (A2=2000) وحدة

في الجدول ادناه المعلومات المعطاة للمشكلة

المنتجات	عدد الوحدات اللازمة لانتاج وحدة واحدة من المواد الاولية المستعملة		ربح الوحدة الواحدة من المنتج
	A1	A2	
المنتج الاول	40	51	\$50
المنتج الثاني	80	25	\$60
المنتج الثالث	20	30	\$50
المواد الاولية المتاحة	1500	2000	

المطلوب صياغة المسألة باستعمال النموذج الرياضي للبرمجة الخطية علما ان الشركة تسعى لتحقيق اعلى العوائد. (12.5 درجات)

س5 / لديك مسألة البرمجة الخطية التالية

$$\text{Max } z = 5x_1 + 4x_2$$

$$\text{s.t : } x_1 + 2x_2 \leq 6$$

$$2x_1 + x_2 \leq 8$$

$$-x_1 + x_2 \leq 1$$


$$x_2 \leq 2$$


$$x_1, x_2 \geq 0$$

المطلوب :

حل مسألة البرمجة الخطية اعلاه باستعمال طريقة السمبلكس (12.5 درجة)

مع التمنيات بالنجاح


رئيس القسم
أ.م. د. وليد مية رودين


مدرس المادة
أ.م. د. دريد حسين بدر



اسئلة الامتحان النهائي للعام الدراسي 2023-2024 -الفصل الاول- الدور (الاول)
المادة : ... الريادة وإدارة المشروعات الصغيرة ... المرحلة : الثالثة التاريخ 2023 ... الزمن : ساعتان

ملاحظة: الإجابة عن خمس اسئلة على ان يكون السؤال الثالث من ضمنها

السؤال الاول : اختر الاجابة الصحيحة من بين الاقواس:

- 1- يقصد بالكفاءات والقدرات الشخصية:
a-المبادرة b-انتهاء الفرص c-التخطيط d-كل ما ذكر
 - 2- رائد الاعمال وفق الاقتصادي جوزيف شومبيتر:
a. محرك النمو على المدى القصير b. محرك النمو على المدى الطويل c. محرك النمو على المدى المتوسط d. كل ما ذكر
 - 3- من الاسباب الحقيقية للدخول في استثمار المشروعات الصغيرة:
a. اسباب تحقيق الذات b. اسباب عائلية c. اسباب مالية d. كل ما ذكر
 - 4- التقسيم السيكوجغرافي هو تقسيم السوق حسب:
a- المدن والقرى b. دوافع الشراء لدى المشتري c. العمر والارض d. كل ما ذكر
 - 5 - من اولى مراحل دورة المشروع :
a. التعرف على الفرص الاستثمارية b- الغريبة c- اعداد الحزم الاستثمارية d. الترويج والتطوير-
- السؤال الثاني : ضع كلمة صح او خطأ مع تصحيح الخطأ :

- 1- يعد من اسباب عدم الضمان الالتباس ويمكن قياسه إحصائياً.
- 2- تعد الثقة بالنفس من الخصائص السلوكية لمبادرة الشاب الريادي.
- 3- يقصد بالسوق كيفية الاتصال بالمستهلك لتعريفه بالمنتج المراد بيعه ومحاولة جذب المنتج .
- 4- تعد استراتيجيات الابتكار ضمن استراتيجيات المنتج .
- 5- يقصد بسياسة الاحتراق هو ان تبدأ بسعر منخفض وتتبع عندما يكون هدف البيع بكميات كبيرة.

السؤال الثالث : أجب عن فرعين لكل فرع خمس درجات:

1- اكتب المعادلات الاتية: فترة الاسترداد, نقطة التعادل, معدل الربحية.
اكتب المصطلح: تكون الشركة قادرة على ابقاء هوامش الربح عالية, المحافظة على التدفقات النقدية.

2- وضح بنقاط لماذا يعتبر تعلم الريادة مهم؟

السؤال الرابع: وضح في شكل لكل فرع خمس درجات:

1- اهم الخطوات التي يمر بها المشروع اثناء دراسة جدواه الفنية والاقتصادية 2- انواع المهارات المطلوبة في الريادة .

السؤال الخامس: اجب عن فرعين: 1- لتسجيل المشروع في غرف التجارة مطلوبه عدة ثبوتيات اذكرها.
2- تحفيز العاملين هي احد وظائف مدير المشروع من هو مدير المشروع وكيف يقوم بتحفيز العاملين؟

السؤال السادس: اجب عن الفرعين: 1- عند تأسيس المشروع يمر بعدة مراحل منها غريبة الافكار اذا توفرت فيه خصائص معينة ماهي هذه الخصائص وما المقصود بغريبة الافكار. 2- ما الفرق بين السوق والتسويق والبيع.

رئيس القسم

أ.م.د. وليد مية رودين

العميد

أ.د. عبدالحسين توفيق شبلي

مع امنياتي لكم بالتوفيق والنجاح

مدرس المادة

م.م نرجس عقيل



جمهورية العراق
وزارة التعليم العالي والبحث العلمي
جامعة البصرة
كلية الإدارة والاقتصاد
قسم نظم المعلومات الإدارية
الدراسات الصباحية والمسائية



اسئلة الامتحان النهائي للعام الدراسي 2023-2024 - الفصل الاول- الدور الثاني
المادة: ... الريادة وادارة المشروعات الصغيرة... المرحلة: الثالثة... التاريخ: 2023... الزمن: ساعتان

ملاحظة: الاجابة عن خمس اسئلة على ان يكون السؤال الثالث من ضمنها

السؤال الاول: اختر الاجابة الصحيحة من بين الاقواس:

- 1- يقصد بالكفاءات والقدرات الشخصية:
a- المبادرة B- انتهاز الفرص C- التخطيط D- كل ما ذكر
- 2- راند الاعمال وفق الاقتصادي جوزيف شومبيتر:
a. محرك النمو على المدى القصير B. محرك النمو على المدى الطويل C. محرك النمو على المدى المتوسط D. كل ما ذكر
- 3- من الاسباب الحقيقية للدخول في استثمار المشروعات الصغيرة:
a. اسباب تحقيق الذات B- اسباب عائلية c - اسباب مالية D. كل ما ذكر
- 4- التقسيم السيكو جرافي هو تقسيم السوق حسب:
a- المدن والقرى B. دوافع الشراء لدى المشتري C. العمر والارض D. كل ما ذكر
- 5 - من اولى مراحل دورة المشروع:
a. التعرف على الفرص الاستثمارية B- الغربة C- اعداد الحزم الاستثمارية D. الترويج والتطوير-

السؤال الثاني: ضع كلمة صح او خطأ مع تصحيح الخطأ:

- 1- يعد من اسباب عدم الضمان الالتباس ويمكن قياسه إحصائياً.
 - 2- تعد الثقة بالنفس من الخصائص السلوكية لمبادرة الشباب الريادي.
 - 3- يقصد بالسوق كيفية الاتصال بالمستهلك لتعريفه بالمنتج المراد بيعه ومحاولة جذبته للمنتج .
 - 4- تعد استراتيجية الابتكار ضمن استراتيجيات المنتج .
 - 5- يقصد بسياسة الاحتراق هو ان تبدأ بسعر منخفض وتتبع عندما يكون هدف البيع بكميات كبيرة.
- السؤال الثالث: أجب عن فرعين لكل فرع خمس درجات:

1- اكتب المعادلات الاتية: فترة الاسترداد، نقطة التعادل، معدل الربحية.
اكتب المصطلح: تكون الشركة قادرة على ابقاء هوامش الربح عالية، المحافظة على التدفقات النقدية.

2- وضح بنقاط لماذا يعتبر تعلم الريادة مهم؟

السؤال الرابع: وضح في شكل لكل فرع خمس درجات:

1- اهم الخطوات التي يمر بها المشروع اثناء دراسة جدواه الفنية والاقتصادية 2- انواع المهارات المطلوبه في الريادة .

السؤال الخامس: اجب عن فرعين: 1- لتسجيل المشروع في غرف التجارة مطلوبه عدة ثبوتيات اذكرها.
2- تحفيز العاملين هي احد وظائف مدير المشروع من هو مدير المشروع وكيف يقوم بتحفيز العاملين؟

السؤال السادس: اجب عن الفرعين: 1- عند تأسيس المشروع يمر بعدة مراحل منها غربة الافكار اذا توفرت فيه خصائص معينة ماهي هذه الخصائص وما المقصود بغربة الافكار. 2- ما الفرق بين السوق والتسويق والبيع.

مع امنياتي لكم بالتوفيق والنجاح

رئيس القسم

أ.م.د. وليد مية رودين

العميد

أ.د. عبد الحسين توفيق شبلي

مدرس المادة

م.م نرجس عقيل



جمهورية العراق
وزارة التعليم العالي والبحث العلمي
جامعة البصرة
كلية الإدارة والاقتصاد
قسم نظم المعلومات الادارية



أسئلة الامتحان النهائي للعام الدراسي 2023-2024 - الفصل الاول- الدور (أ ب ج)

المادة : الإدارة الاستراتيجية المرحلة : الرابعة صباحي و مسائي التاريخ : 2023 / ٢ / ٢٠٠٠ الزمن : ساعتان

ملاحظة: الإجابة عن خمس أسئلة فقط و لكل سؤال 10 درجات

س1/ عرف ثلاثة فقط مما يأتي :

1- رؤية المنظمة 2- التحليل الاستراتيجي 3- رسالة المنظمة 4- قيم المنظمة .

س2/ ضع كلمة صح امام العبارة الصحيحة و خطأ امام العبارة الخاطئة و صحح الخطأ ان وجد.

- 1- احد التحديات التي تواجه الإدارة الاستراتيجية هي ندرة الموارد.
- 2- تحديد طبيعة الأنشطة و العمليات لوحدة الاعمال هي احد مهام الاستراتيجية على المستوى الوظيفي.
- 3- تطوير المقدرات الادائية يتضمن الارتقاء في عمليات التواصل و الاتصال والبحث عن المشاركة الإيجابية.
- 4- احد الفروقات بين القيادة الاستراتيجية و القيادة بشكل عام هو النطاق الواسع للقيادة العامة.
- 5- الموارد الغير ملموسة تشمل المواد الأولية, الموارد المالية و معدات الإنتاج.
- 6- احد العوامل المؤثرة على رسالة المنظمة هي عدم القدرة في التعامل مع الغموض.
- 7- يحتل المجهزون موقع الصدارة من بين كافة القوى التي تشكل بيئة المهمة.
- 8- تشمل الإدارة بالأهداف اعتماد اهداف الأقسام و الافراد كدليل عمل للمنظمة.
- 9- الجوانب الرئيسية التي يمكن اكتشافها من خلال تحليل البيئة الخارجية هي الفرص و المخاطر والتهديدات.
- 10- أحد أنواع الأهداف التي تسعى المنظمة الى تحقيقها هو التميز التقني.

س3/ ما هو دور الإدارة العليا في ممارسات الإدارة الاستراتيجية؟ وضح ذلك.

س4/ ما هي خصائص الغايات والأهداف الاستراتيجية؟ وضح ذلك.

س5/ وضح بالرسم فقط اثنين من الآتي:

- 1- مكونات البيئة الخارجية العامة
- 2- دورة حياة الميزة التنافسية المستدامة
- 2- مستويات الإدارة الاستراتيجية في منظمات الأعمال.


س6/ أراد أحد الأشخاص فتح مطعم جديد اسمه (ABC) في محافظة البصرة حيث يتطلب ذلك القيام بتحليل البيئة الخارجية الخاصة بالمطاعم.

المطلوب : بصفتك خبير استراتيجي, قم بتحليل البيئة الخارجية الخاصة بالمطاعم في محافظة البصرة و ذلك من خلال استخدام نموذج Porter لتحليل قوى المنافسة في الصناعة و بين ما هي الخيارات الاستراتيجية التي تقترحها له؟


مع امنياتي لكم بالتوفيق والنجاح


الحميد

أ.د. عبدالحسين توفيق سبلي


رئيس القسم

أ.م.د. وليد مية رودين


مدرس المادة

م.م. محمد هاشم عبدالكريم

4. Because my best friend's in Korea.? How interesting!

5. it took me three hours to get here.

6. I'm on a mountain, watching the sun set.

Q4/ Re-write the sentence using the passive and omitting the subject. (Answer 5 only)
(10 Marks)

1. John's Kitchen is being decorated.

2. My sister wants someone to pierce her ears.

3. My eyes are going to be tested.

4. My and Mrs Turner's car has been serviced.

5. Our television hasn't been repaired yet.

6. The shop has already delivered the new sofa.

Q5/ / Complete the following sentence with suitable words in the blank. (10 marks)

(do away, do without, could do with, make up for, make off with)

1. I'm so thirsty. I..... a cup of tea.

2. I think we should.....the Olympic Games. It's a waste of time and expensive.

3. I could never my personal assistant. She organizes everything for me.

4. Thieves broke into the castle and jewellery and antique paintings.

5. Jake's parents buy him loads of toys. They're trying toalways being at work.

Q6 / Match a question in A with a short answer in B (10 marks)

A	B
He was wearing	with a partner.
He'd been talking	to do it.
A friend had dared him	the next night.
She was climbing	about doing it for ages.
They were rescued	ordinary clothes.

Good Luck



جمهورية العراق
وزارة التعليم العالي والبحث العلمي
جامعة البصرة
كلية الإدارة والاقتصاد
قسم نظم المعلومات الادائية



أسئلة الامتحان النهائي للعام الدراسي 2023-2024 - الفصل الاول- الدور (الاول)
المادة : نظم معلومات متقدمة المرحلة : الرابعة التاريخ / 2023 ... الزمن : ساعتان

ملاحظة: الاجابة: الاجابة عن خمس أسئلة فقط لكل سؤال ١٠ درجات

س1// حدد بجدول الاتي :-

- 1- أنواع المستخدمين على أساس درجات التعامل مع نظام المعلومات ؟
- 2- أنواع المستخدمين على أساس الخبرة في الاستخدام ونوع الاستخدام وتكراره ؟

س2// اذكر الفرق بين قائد او مدير نظم المعلومات الإداري والفني ومن هو الأفضل بينهم مع لرسم ؟

س3// عرف الاتي (1-مقياس قيمة المعلومة /2-مقياس الأداء الفردي للمستفيد /3-مقياس الأداء المنظمي /4-مقياس استخدام النظام / 5-مقياس رضا المستخدمين ؟

س4// اشرح مع الرسم وبيان الحالات والمزايا والعيوب أسلوب الاحلال التدريجي ؟

س5// عدد اليات حفز العاملين في نظام المعلومات وشرح ثلاثة منهم فقط

س6// عدد الإجراءات التمهيدية لاجراء دراسة الجدوى مع الشرح ؟

س7// اذكر ثلاثة نقط لكل عنوان ادناه :-

مواصفات نظام الاتصال /2-مواصفات البرمجيات /3-مواصفات الحاسوب /4- مواصفات العاملين في النظام)

مع امنياتي لكم بالتوفيق والنجاح

رئيس القسم

العميد

مدرس المادة

د. عبد الله محمد عبد الله

د. عبد الحسين الموسوي

د. عكرات ناصر



جمهورية العراق
وزارة التعليم العالي والبحث العلمي
جامعة البصرة
كلية الإدارة والاقتصاد
قسم نظم المعلومات الادارية
الدراسات الصباحية والمسائية



أسئلة الامتحان النهائي للعام الدراسي ٢٠٢٣-٢٠٢٤ - الفصل الاول- الدور (الثاني)
المادة: نظم اسناد القرار المرحلة: الرابعة التاريخ ٢٠٢٤/١١/٢٤ الزمن: ساعتان

ملاحظة: الإجابة عن خمسة أسئلة فقط (لكل سؤال ١٠ درجات) .

س١/ عرف الاتصال ثم وضح مكونات الاتصال .

س٢/ من خصائص نظم دعم اتخاذ القرار (القدرة على دعم القرارات شبه المهيكلة وغير المهيكلة) وضح ذلك .

س٣/ أ- عرف نظم دعم اتخاذ القرار .

ب- وضح ستة من فوائد نظم دعم اتخاذ القرار .

س٤/ وضح بالرسم أنظمة إدارة نظم دعم اتخاذ القرار .

س٥/ ماهو دور التكنولوجيا في تطوير نظم دعم اتخاذ القرار . (عدد خمسة فقط)

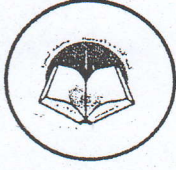
س٦/ توجد ثلاث طرق رئيسية يستطيع ان يحصل بها المدير على المعلومات من نظم دعم اتخاذ القرار DSS عددها مع واحدة منها .

مع امنياتي لكم بالتوفيق والنجاح

رئيس القسم
أ.م.د. وليد مية رودين

العميد
أ.د. عبدالحسين توفيق شبلي

مدرس المادة
مريم سالم جبار



جمهورية العراق
وزارة التعليم العالي والبحث العلمي
جامعة البصرة
كلية الإدارة والاقتصاد
قسم نظم المعلومات الإدارية



أسئلة الامتحان النهائي للعام الدراسي 2023-2024 - الفصل الأول - الدور الأول
المادة: إدارة المعرفة المرحلة: الرابعة التاريخ: 2023/11/11 الزمن: ساعتان

ملاحظة: الإجابة عن خمسة أسئلة فقط لكل سؤال 10 درجات

س1/ عرف ثلاث فقط مما يأتي:

1- المعرفة 2- المعرفة المجسدة 3- خريطة المعرفة 4- المعرفة الظاهرة

س2/ عدد مصادر المعرفة وأعطي أمثلة لكل مصدر؟

س3/ وضح الفرق بين عملية توزيع المعرفة وعملية خزن المعرفة؟

س4/ عدد خصائص المعرفة مع الشرح؟

س5/ ما المقصود بالأفراد في برامج إدارة المعرفة؟ وما الأدوار التي يؤديها الأفراد في إدارة المعرفة (عدد ثلاث فقط)؟

س6/ اجب عن احد الفرعين:

أ- ارسم شكلاً يوضح العوامل التي أسهمت في ظهور إدارة المعرفة؟

ب- أذكر خمس نقاط فقط توضح فيها أهمية إدارة المعرفة للمنظمات؟

مع تمنياتي لكم بالتوفيق والنجاح

رئيس القسم

أ.م.د. وليد مية رودين

العميد

أ.د. عبد الحسين توفيق شبلي

مدرس المادة

م.م. ايمان عبد الامام نجم



جمهورية العراق
وزارة التعليم العالي والبحث العلمي
جامعة البصرة
كلية الإدارة والاقتصاد
قسم نظم المعلومات الادارية



أسئلة الامتحان النهائي للعام الدراسي 2023-2024 - الفصل الاول- الدور الاول
المادة : إدارة المعرفة المرحلة : الرابعة التاريخ 2024/1/11 الزمن : ساعتان

ملاحظة : الإجابة عن خمسة أسئلة فقط لكل سؤال 10 درجات

س1/ عرف ثلاث فقط مما يأتي :

1- المعرفة 2- المعرفة المجسدة 3- خريطة المعرفة 4 - المعرفة الظاهرة

س2/ عدد مصادر المعرفة وأعطي أمثلة لكل مصدر ؟

س3/ وضح الفرق بين عملية توزيع المعرفة وعملية خزن المعرفة ؟

س4/ عدد خصائص المعرفة مع الشرح ؟

س5/ ما المقصود بالأفراد في برامج إدارة المعرفة ؟ وما الأدوار التي يؤديها الأفراد في إدارة المعرفة (عدد ثلاث فقط) ؟

س6/ اجب عن احد الفرعين :

أ- ارسم شكلاً يوضح العوامل التي أسهمت في ظهور إدارة المعرفة ؟

ب- أذكر خمس نقاط فقط توضح فيها أهمية إدارة المعرفة للمنظمات ؟

مع تمنياتي لكم بالتوفيق والنجاح

رئيس القسم

أ.م.د. وليد مية رودين

العميد

أ.د. عبدالحسين توفيق شبلي

مدرس المادة

م.م. ايمان عبدالامام نجم



جمهورية العراق
وزارة التعليم العالي والبحث العلمي
جامعة البصرة
كلية الإدارة والاقتصاد
قسم نظم المعلومات الادارية



أسئلة الامتحان النهائي للعام الدراسي 2023-2024 - الفصل الاول- الدور (الاول)
المادة: أدارة المصارف المرحلة: الرابعة التاريخ 2024/1/11 ... الزمن: ساعتان

ملاحظة: الإجابة عن خمسة أسئلة فقط (10 درجات لكل سؤال)

س1: المصرف يختلف عن منشآت الاعمال الاخرى حيث يتميز بخصائص عديدة تفرض على عملة طبيعة خاصة من الضروري اخذها بعين الاعتبار، ماهي اهم هذه الخصائص ؟ عددها مع شرح واحدة منها ؟

س2: فسر العبارة التالية : يعد البنك المركزي

1- المؤسسة الوحيدة التي تقوم بإصدار النقد في البلاد

2- مصرف الحكومة

3- مصرف المصارف

س3: : وضح مع الرسم اسلوب مخصص اموال المصرف وفقا لسياسة المخاطرة معتمدا على البيانات التالية

1- 600 مليون دينار ودائع جارية

2- 800 مليون دينار ودائع توفير

3- 400 مليون دينار الودائع الثابتة

4- 200 مليون دينار قروض وحق ملكية

مفترضاً ان سياسة المخاطرة تشير الى تقسيم امواله بواقع (60% احتياطات اولية و10% في الاحتياطات الثانوية و30% في القروض والسلف من الودائع الجارية)، (20% احتياطات ثانوية و80% في القروض والسلف من ودائع التوفير)، (اما الودائع الثابتة فتوضع في القروض والسلف 100%)، (فيما توزع القروض وحق الملكية بين القروض 60% والاستثمارات طويلة الاجل والموجودات الثابتة 40%).

س4: اجب عن احد الفرعين التاليين :

1- ما معنى اسلوب تخصيص الاموال المصرف ولماذا تهتم به ادارات المصارف ؟

2- ما هي السياسات التي تعتمدها المصارف في تخصيص اموالها ؟

س5: عرف التحليل العمودي والتحليل الافقي لكشف الدخل؟

س6: نظرا لطبيعة العمل المصرفي والخصائص فان معظم التشريعات المصرفية المحلية والدولية تعمل على تدعيم متانة او كفاية رأسمال المصرف التي تتمثل بقدرته على مواجهة الظروف الصعبة في العمل المصرفي من خلال فرض نسب معينة يكون راس المال طرفا فيها ، عدد هذه النسب مع التوضيح؟

رئيس القسم

أ.م.د. وليد مية رودين

مع امنياتي لكم بالتوفيق والنجاح

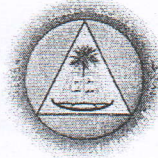
العميد

أ.د. عبد الحسين توفيق شبلي

مدرس المادة

أ.م.د. سكتة جهيه فرج

المادة: إدارة الانتاج والعمليات
المرحلة :- الرابعة للدراستين
الزمن : ساعة
اليوم :
التاريخ :



وزارة التعليم العالي والبحث العلمي
جامعة البصرة
كلية الإدارة والاقتصاد
قسم نظم المعلومات الإدارية

مكآت الكورس الأول - الفصل الدراسي الأول/2023-2024

ملاحظة الاجابة على خمسة اسئلة فقط وتوزع الدرجات بالتساوي

س1/1/ عرف كلا مميأتي/ 1/ الانتاج 2/العمليات 3/ المجهزون 4/ المدخلات 5/ الزبائن
ب/ ماهي الوظائف الاساسية بجانب وظيفة الانتاج عددها مع الشرح مختصر لكل واحد

س2/1/ ماهي اهم النشاطات الغير مباشرة لادارة الاناتاج والعمليات عددها

ب/ ماهي اهم النشاطات المباشرة لادارة الانتاج والعمليات عددها؟

س3/1/ مالفرق بين الانتاج والانتاجية؟

ب/ ماهي طرق تحسين الانتاجية عددها ؟

س4/1/ ماهي اهم الحقائق التي يستند عليها مفهوم استير اتيجة العمليات عددها ؟

ب/ ماهي اهم النصوص التي توضح الرسالة والاستير اتيجية للمنظمة عددها؟

س5/1/ عدد اهم المستويات الاستير اتيجة مع شرح مختصر لكل واحدة منها؟

ب/ هناك ثلاثة اجزاء او مكونات رئيسية لاستير اتيجية الشركة والتي تصاغ من قبل الادارة العليا عددها؟

س6/1/ اوضح بجدول اهم الاسبقيات التنافسية الرئيسية مع الابعاد التنافسية للاسبقية ؟

ب/ ماهي الابعاد الزمنية للتنبؤ بالطلب عددها مع الشرح مختصر لكل واحدة منها؟

س7/1/ ماهي اهم الخطوات التنب { بالطلب عددها مع شرح مختصر لكل واحد منها ؟

س7/ب/ وضح بجدول اهم العوامل التي تؤثر في الطلب عل المنتجات ؟

رئيس القسم

أ.م.د وليد مية رودين

مدرس المادة

م.م مسلم خريبط شريذم